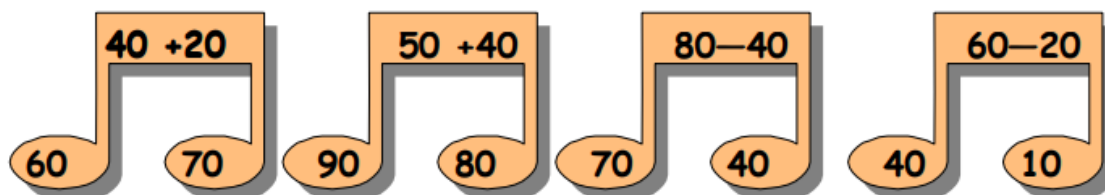


VAJE IZ MATEMATIKE (2. RAZRED)

SEŠTEVANJE IN ODŠTEVANJE Z DESETICAMI DO 100

1. Obkroži pravilen rezultat.



2. Dana števila povečaj za 20.

30 10 80 40 70 50 20 0

3. Vpiši znak <, >, =.

40 20

90 - 70 30

100 - 60 30 + 40

90 60

10 20 - 20

50 + 50 100 - 80

4. V 2. a razredu je 20 učencev, v 2. d razredu pa 30 učencev. Koliko učencev je v obeh razredih?

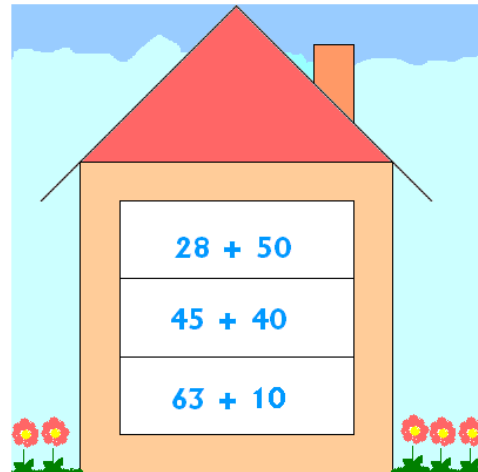
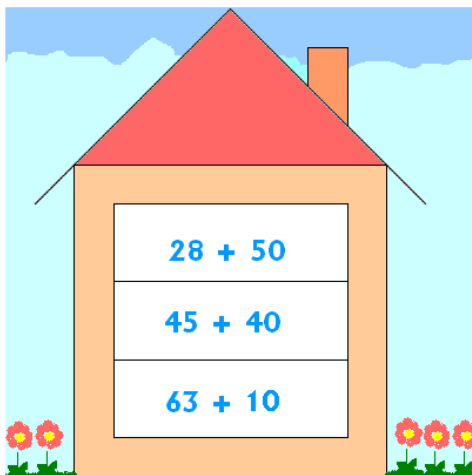
Račun: _____

Odgovor: _____

5. Dopolni.

SEŠTEVANEC	50		10	80		40	80		50	10
SEŠTEVANEC	20	30			10	30		60		40
VSOTA		60	70	100	50		90	70	80	

6. Izračunaj račune v prvi hiški in v nadstropju sosedne hišice sestavi še en račun, ki ima enak rezultat.



7. Od števila 78 odvzemi 40, nato dodaj 30. Koliko dobiš?

Rač.: _____

Odg.: _____

8. Na parkirišču je bilo 91 avtomobilov, odpeljalo je 20 avtomobilov. Koliko avtomobilov je na parkirišču?

Rač.: _____

Odg.: _____

9. Matija je imel 54 metrov vrvice. Koliko vrvice je dal prijatelju, da mu je ostalo še 8 metrov vrvice?

Rač.: _____

Odg.: _____

10. Z enako barvo pobarvaj trikotnik in krog, ki se ujemata.

